


«УТВЕРЖДАЮ»  
Директор  
ФГБНУ «Федеральный институт  
педагогических измерений»



*О.А. Решетникова*  
О.А. Решетникова  
« 09 » *сентября* 2015 г.

«СОГЛАСОВАНО»  
Председатель  
Научно-методического совета  
ФГБНУ «ФИПИ» по математике



А.Л. Семенов  
« 09 » *сентября* 2015 г.

**Государственная итоговая аттестация по образовательным  
программам основного общего образования в форме  
основного государственного экзамена (ОГЭ)**

**Демонстрационный вариант  
контрольных измерительных материалов для проведения  
в 2016 году основного государственного экзамена  
по МАТЕМАТИКЕ**

подготовлен Федеральным государственным бюджетным  
научным учреждением  
«ФЕДЕРАЛЬНЫЙ ИНСТИТУТ ПЕДАГОГИЧЕСКИХ ИЗМЕРЕНИЙ»

**Демонстрационный вариант  
контрольных измерительных материалов для проведения  
в 2016 году основного государственного экзамена по  
МАТЕМАТИКЕ**

**Пояснения к демонстрационному варианту экзаменационной работы**

При ознакомлении с демонстрационным вариантом следует иметь в виду, что включённые в него задания не отражают всех элементов содержания, которые будут проверяться с помощью вариантов КИМ в 2016 году. Разделы содержания, на которых базируются контрольные измерительные материалы, определены в спецификации; полный перечень соответствующих элементов содержания и умений, которые могут контролироваться на экзамене 2016 года, приведён в кодификаторах, размещённых на сайте [www.fipi.ru](http://www.fipi.ru).

Демонстрационный вариант предназначен для того, чтобы дать возможность участнику экзамена и широкой общественности составить представление о структуре будущей экзаменационной работы, числе и форме заданий, а также их уровне сложности. Эти сведения дают возможность выработать стратегию подготовки к сдаче экзамена по математике.

**Демонстрационный вариант 2016 года****Инструкция по выполнению работы**

Работа состоит из трёх модулей: «Алгебра», «Геометрия», «Реальная математика». Всего в работе 26 заданий. Модуль «Алгебра» содержит 11 заданий: в части 1 — восемь заданий; в части 2 — три задания. Модуль «Геометрия» содержит восемь заданий: в части 1 — пять заданий; в части 2 — три задания. Модуль «Реальная математика» содержит семь заданий: все задания этого модуля — в части 1.

На выполнение экзаменационной работы по математике отводится 3 часа 55 минут (235 минут).

Ответы к заданиям 2, 3, 8, 14 записываются в виде одной цифры, которая соответствует номеру правильного ответа. Эту цифру запишите в поле ответа в тексте работы.

Для остальных заданий части 1 ответом является число или последовательность цифр, которые нужно записать в поле ответа в тексте работы. Если в ответе получена обыкновенная дробь, обратите её в десятичную. В случае записи неверного ответа на задания части 1 зачеркните его и запишите рядом новый.

Решения заданий части 2 и ответы к ним запишите на отдельном листе или бланке. Задания можно выполнять в любом порядке, начиная с любого модуля. Текст задания переписывать не надо, необходимо только указать его номер.

Сначала выполняйте задания части 1. Начать советуем с того модуля, задания которого вызывают у Вас меньше затруднений, затем переходите к другим модулям. Для экономии времени пропускайте задание, которое не удаётся выполнить сразу, и переходите к следующему. Если у Вас останется время, Вы сможете вернуться к пропущенным заданиям.

Все необходимые вычисления, преобразования и т.д. выполняйте в черновике. Записи в черновике не учитываются при оценивании работы. Если задание содержит рисунок, то на нём непосредственно в тексте работы можно выполнять необходимые Вам построения. Рекомендуем внимательно читать условие и проводить проверку полученного ответа.

При выполнении работы Вы можете воспользоваться справочными материалами.

Баллы, полученные за верно выполненные задания, суммируются. Для успешного прохождения итоговой аттестации необходимо набрать в сумме не менее 8 баллов, из них не менее 3 баллов в модуле «Алгебра», не менее 2 баллов в модуле «Геометрия» и не менее 2 баллов в модуле «Реальная математика». За каждое правильно выполненное задание части 1 выставляется 1 балл. В каждом модуле части 2 задания оцениваются в 2 балла.

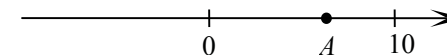
***Желаем успеха!***

**Часть 1****Модуль «Алгебра»**

**1** Найдите значение выражения  $\frac{1}{4} + 0,07$ .

Ответ: \_\_\_\_\_.

**2** На координатной прямой отмечена точка  $A$ .



Известно, что она соответствует одному из четырёх указанных ниже чисел. Какому из чисел соответствует точка  $A$ ?

- 1)  $\frac{181}{16}$       2)  $\sqrt{37}$       3) 0,6      4) 4

Ответ:

**3** Значение какого из выражений является рациональным числом?

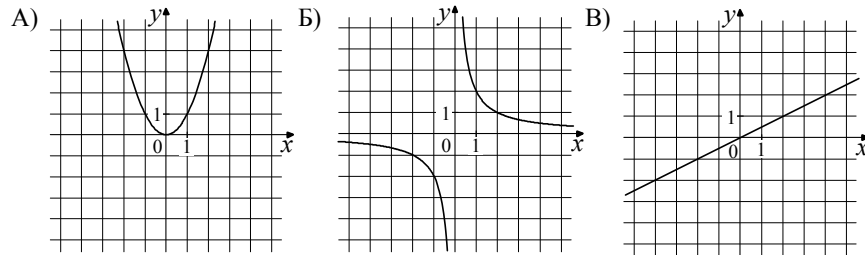
- 1)  $\sqrt{6} - 3$       2)  $\sqrt{3} \cdot \sqrt{5}$       3)  $(\sqrt{5})^2$       4)  $(\sqrt{6} - 3)^2$

Ответ:

**4** Решите уравнение  $7x - 9 = 40$ .

Ответ: \_\_\_\_\_.

5 Установите соответствие между графиками функций и формулами, которые их задают.



- 1)  $y = x^2$                       2)  $y = \frac{x}{2}$                       3)  $y = \frac{2}{x}$

В таблице под каждой буквой, соответствующей графику, впишите номер формулы, которая его задаёт.

Ответ:

А	Б	В

6 В последовательности чисел первое число равно 6, а каждое следующее больше предыдущего на 4. Найдите пятнадцатое число.

Ответ: \_\_\_\_\_.

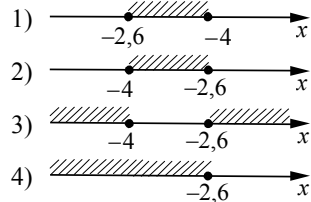
7 Найдите значение выражения  $9b + \frac{5a - 9b^2}{b}$  при  $a = 9, b = 36$ .

Ответ: \_\_\_\_\_.

8 Решите систему неравенств

$$\begin{cases} x + 2,6 \leq 0, \\ x + 5 \geq 1. \end{cases}$$

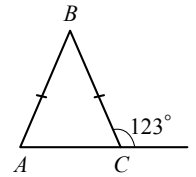
На каком рисунке изображено множество её решений?



Ответ:

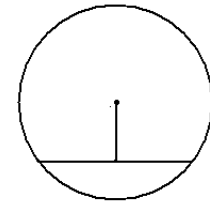
Модуль «Геометрия»

9 В равнобедренном треугольнике  $ABC$  с основанием  $AC$  внешний угол при вершине  $C$  равен  $123^\circ$ . Найдите величину угла  $BAC$ . Ответ дайте в градусах.



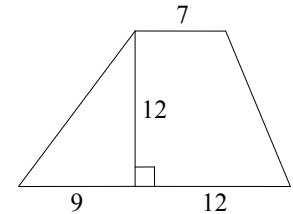
Ответ: \_\_\_\_\_.

10 Найдите длину хорды окружности радиусом 13 см, если расстояние от центра окружности до хорды равно 5 см. Ответ дайте в см.



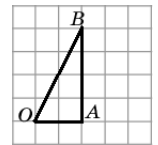
Ответ: \_\_\_\_\_.

11 Найдите площадь трапеции, изображённой на рисунке.



Ответ: \_\_\_\_\_.

12 Найдите тангенс угла  $AOB$  треугольника, изображённого на рисунке.



Ответ: \_\_\_\_\_.

13 Укажите номера **верных** утверждений.

- 1) Через точку, не лежащую на данной прямой, можно провести прямую, параллельную этой прямой.
- 2) Треугольник со сторонами 1, 2, 4 существует.
- 3) Если в ромбе один из углов равен  $90^\circ$ , то такой ромб — квадрат.
- 4) В любом параллелограмме диагонали равны.

Ответ: \_\_\_\_\_.

**Модуль «Реальная математика»**

**14** В таблице приведены нормативы по бегу на 30 метров для учащихся 9-х классов.

Отметка	Мальчики			Девочки		
	«отл.»	«хор.»	«удовл.»	«отл.»	«хор.»	«удовл.»
Время, секунды	4,6	4,9	5,3	5,0	5,5	5,9

Какую отметку получит девочка, пробежавшая эту дистанцию за 5,36 секунды?

- 1) Отлично
- 2) Хорошо
- 3) Удовлетворительно
- 4) Норматив не выполнен

Ответ:

**15** На графике изображена зависимость атмосферного давления (в миллиметрах ртутного столба) от высоты над уровнем моря (в километрах). На какой высоте (в километрах) давление составит 540 миллиметров ртутного столба?

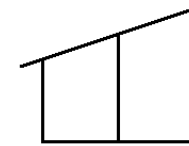


Ответ: \_\_\_\_\_.

**16** Стоимость проезда в пригородном электропоезде составляет 198 рублей. Школьникам предоставляется скидка 50%. Сколько рублей стоит проезд группы из 4 взрослых и 12 школьников?

Ответ: \_\_\_\_\_.

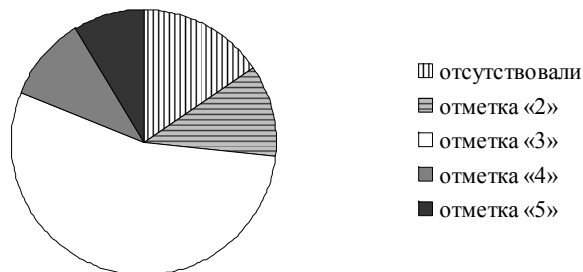
**17** Наклонная балка поддерживается тремя столбами, стоящими вертикально на равном расстоянии друг от друга. Длины двух меньших столбов — 60 см и 90 см. Найдите длину большего столба. Ответ дайте в см.



Ответ: \_\_\_\_\_.

- 18 Завуч школы подвёл итоги контрольной работы по математике в 9-х классах. Результаты представлены на круговой диаграмме.

Результаты контрольной работы по математике.  
9 класс



Какие из утверждений относительно результатов контрольной работы **верны**, если всего в школе 120 девятиклассников?

В ответе укажите номера верных утверждений.

- 1) Более половины учащихся получили отметку «3».
- 2) Около половины учащихся отсутствовали на контрольной работе или получили отметку «2».
- 3) Отметку «4» или «5» получила примерно шестая часть учащихся.
- 4) Отметку «3», «4» или «5» получили более 100 учащихся.

Ответ: \_\_\_\_\_.

- 19 На тарелке лежат пирожки, одинаковые на вид: 4 с мясом, 8 с капустой и 3 с яблоками. Петя наугад выбирает один пирожок. Найдите вероятность того, что пирожок окажется с яблоками.

Ответ: \_\_\_\_\_.

- 20 Период колебания математического маятника  $T$  (в секундах) приближенно можно вычислить по формуле  $T = 2\sqrt{l}$ , где  $l$  — длина нити (в метрах). Пользуясь этой формулой, найдите длину нити маятника (в метрах), период колебаний которого составляет 3 секунды.

Ответ: \_\_\_\_\_.

## Часть 2

При выполнении заданий 21–26 используйте отдельный лист. Сначала укажите номер задания, а затем запишите его решение и ответ. Пишите чётко и разборчиво.

### Модуль «Алгебра»

21 Сократите дробь  $\frac{18^{n+3}}{3^{2n+5} \cdot 2^{n-2}}$ .

- 22 Рыболов в 5 часов утра на моторной лодке отправился от пристани против течения реки, через некоторое время бросил якорь, 2 часа ловил рыбу и вернулся обратно в 10 часов утра того же дня. На какое расстояние от пристани он отплыл, если скорость течения реки равна 2 км/ч, а собственная скорость лодки 6 км/ч?

- 23 Постройте график функции  $y = \frac{x^4 - 13x^2 + 36}{(x-3)(x+2)}$  и определите, при каких значениях  $c$  прямая  $y = c$  имеет с графиком ровно одну общую точку.

### Модуль «Геометрия»

- 24 В прямоугольном треугольнике  $ABC$  с прямым углом  $C$  известны катеты:  $AC = 6$ ,  $BC = 8$ . Найдите медиану  $CK$  этого треугольника.

- 25 В параллелограмме  $ABCD$  точка  $E$  — середина стороны  $AB$ . Известно, что  $EC = ED$ . Докажите, что данный параллелограмм — прямоугольник.

- 26 Основание  $AC$  равнобедренного треугольника  $ABC$  равно 12. Окружность радиуса 8 с центром вне этого треугольника касается продолжений боковых сторон треугольника и касается основания  $AC$ . Найдите радиус окружности, вписанной в треугольник  $ABC$ .

## Система оценивания экзаменационной работы по математике

За правильный ответ на задания 1–20 ставится 1 балл.

## Ответы к заданиям части 1

Номер задания	Правильный ответ
1	0,32
2	2
3	3
4	7
5	132
6	62
7	1,25
8	2
9	57
10	24
11	168
12	2
13	13; 31
14	2
15	2,5
16	1980
17	120
18	13; 31
19	0,2
20	2,25

Решения и критерии оценивания заданий части 2  
Модуль «Алгебра»

21

Сократите дробь  $\frac{18^{n+3}}{3^{2n+5} \cdot 2^{n-2}}$ .

Решение.

$$\frac{18^{n+3}}{3^{2n+5} \cdot 2^{n-2}} = \frac{(9 \cdot 2)^{n+3}}{3^{2n+5} \cdot 2^{n-2}} = \frac{3^{2n+6} \cdot 2^{n+3}}{3^{2n+5} \cdot 2^{n-2}} = 3^{2n+6-(2n+5)} \cdot 2^{n+3-(n-2)} = 3 \cdot 2^5 = 96.$$

Ответ: 96.

Баллы	Критерии оценки выполнения задания
2	Правильно выполнены преобразования, получен верный ответ
1	Решение доведено до конца, но допущена ошибка вычислительного характера или описка, с её учётом дальнейшие шаги выполнены верно
0	Другие случаи, не соответствующие указанным выше критериям
2	Максимальный балл

22

Рыболов в 5 часов утра на моторной лодке отправился от пристани против течения реки, через некоторое время бросил якорь, 2 часа ловил рыбу и вернулся обратно в 10 часов утра того же дня. На какое расстояние от пристани он отплыл, если скорость реки равна 2 км/ч, а собственная скорость лодки 6 км/ч?

Решение.

Пусть искомое расстояние равно  $x$  км. Скорость лодки при движении против течения равна 4 км/ч, при движении по течению равна 8 км/ч. Время, за которое лодка доплывёт от места отправления до места назначения и обратно, равно  $\left(\frac{x}{4} + \frac{x}{8}\right)$  часа. Из условия задачи следует, что это время равно

$$3 \text{ часам. Составим уравнение: } \frac{x}{4} + \frac{x}{8} = 3.$$

Решив уравнение, получим  $x = 8$ .

Ответ: 8 км.

Баллы	Критерии оценки выполнения задания
2	Правильно составлено уравнение, получен верный ответ
1	Правильно составлено уравнение, но при его решении допущена вычислительная ошибка, с её учётом решение доведено до ответа
0	Другие случаи, не соответствующие указанным критериям
2	Максимальный балл

23

Постройте график функции  $y = \frac{x^4 - 13x^2 + 36}{(x-3)(x+2)}$  и определите, при каких значениях  $c$  прямая  $y = c$  имеет с графиком ровно одну общую точку.

Решение. Разложим числитель дроби на множители:

$$x^4 - 13x^2 + 36 = (x^2 - 4)(x^2 - 9) = (x - 2)(x + 2)(x - 3)(x + 3)$$

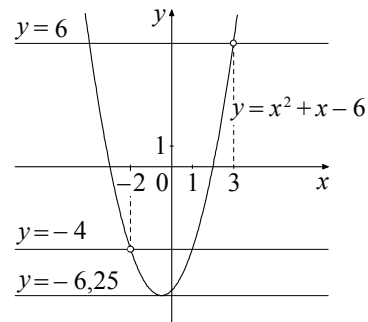
При  $x \neq -2$  и  $x \neq 3$  функция принимает вид:

$$y = (x - 2)(x + 3) = x^2 + x - 6,$$

её график — парабола, из которой выколоты точки  $(-2; -4)$  и  $(3; 6)$ .

Прямая  $y = c$  имеет с графиком ровно одну общую точку либо тогда, когда проходит через вершину параболы, либо тогда, когда пересекает параболу в двух точках, одна из которых — выколотая. Вершина параболы имеет координаты  $(-0,5; -6,25)$ .

Поэтому  $c = -6,25$ ,  $c = -4$  или  $c = 6$ .



Баллы	Критерии оценивания выполнения задания
2	График построен правильно, верно указаны все значения $c$ , при которых прямая $y = c$ имеет с графиком только одну общую точку
1	График построен правильно, указаны не все верные значения $c$
0	Другие случаи, не соответствующие указанным выше критериям
2	Максимальный балл

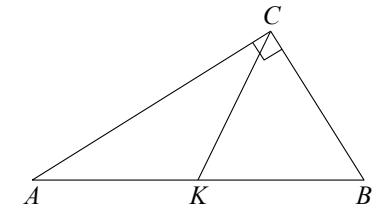
Модуль «Геометрия»

24

В прямоугольном треугольнике  $ABC$  с прямым углом  $C$  известны катеты:  $AC = 6$ ,  $BC = 8$ . Найдите медиану  $CK$  этого треугольника.

Решение.

$$CK = \frac{1}{2} AB = \frac{1}{2} \sqrt{AC^2 + BC^2} = \frac{1}{2} \sqrt{36 + 64} = 5.$$



Ответ: 5.

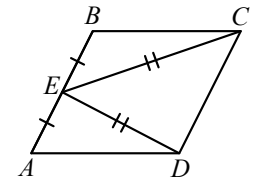
Баллы	Критерии оценки выполнения задания
2	Получен верный обоснованный ответ
1	При верных рассуждениях допущена вычислительная ошибка, возможно приведшая к неверному ответу
0	Другие случаи, не соответствующие указанным критериям
2	Максимальный балл

25

В параллелограмме  $ABCD$  точка  $E$  — середина стороны  $AB$ . Известно, что  $EC = ED$ . Докажите, что данный параллелограмм — прямоугольник.

Доказательство. Треугольники  $BEC$  и  $AED$  равны по трём сторонам.

Значит, углы  $CBE$  и  $DAE$  равны. Так как их сумма равна  $180^\circ$ , то углы равны  $90^\circ$ . Такой параллелограмм — прямоугольник.



Баллы	Критерии оценки выполнения задания
2	Доказательство верное, все шаги обоснованы
1	Доказательство в целом верное, но содержит неточности
0	Другие случаи, не соответствующие указанным критериям
2	Максимальный балл

**26** Основание  $AC$  равнобедренного треугольника  $ABC$  равно 12. Окружность радиуса 8 с центром вне этого треугольника касается продолжений боковых сторон треугольника и касается основания  $AC$ . Найдите радиус окружности, вписанной в треугольник  $ABC$ .

Решение.

Пусть  $O$  — центр данной окружности, а  $Q$  — центр окружности, вписанной в треугольник  $ABC$ .

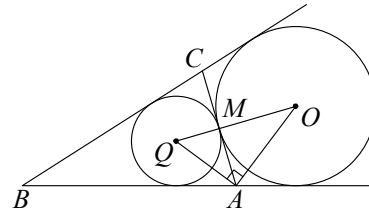
Точка касания  $M$  окружностей делит  $AC$  пополам.

Лучи  $AQ$  и  $AO$  — биссектрисы смежных углов, значит, угол  $OAQ$  прямой. Из

прямоугольного треугольника  $OAQ$  получаем:  $AM^2 = MQ \cdot MO$ . Следовательно,

$$QM = \frac{AM^2}{OM} = \frac{9}{2} = 4,5.$$

Ответ: 4,5.



Баллы	Критерии оценки выполнения задания
2	Ход решения верный, все его шаги выполнены правильно, получен верный ответ
1	Ход решения верный, чертёж соответствует условию задачи, но пропущены существенные объяснения или допущена вычислительная ошибка
0	Другие случаи, не соответствующие указанным критериям
2	Максимальный балл

В соответствии с Порядком проведения государственной итоговой аттестации по образовательным программам основного общего образования (приказ Минобрнауки России от 25.12.2013 № 1394 зарегистрирован Минюстом России 03.02.2014 № 31206)

«48. Экзаменационные работы проверяются двумя экспертами. По результатам проверки эксперты независимо друг от друга выставляют баллы за каждый ответ на задания экзаменационной работы... В случае существенного расхождения в баллах, выставленных двумя экспертами, назначается третья проверка. Существенное расхождение в баллах определено в критериях оценивания по соответствующему учебному предмету.

Третий эксперт назначается председателем предметной комиссии из числа экспертов, ранее не проверявших экзаменационную работу.

Третьему эксперту предоставляется информация о баллах, выставленных экспертами, ранее проверявшими экзаменационную работу обучающегося. Баллы, выставленные третьим экспертом, являются окончательными».

1. Работа направляется на третью проверку, если расхождение в баллах, выставленных двумя экспертами за выполнение любого из заданий, составляет 2 балла.

*В этом случае третий эксперт проверяет только то задание, которое было оценено двумя экспертами со столь существенным расхождением.*

2. Работа участника ГИА-9 направляется на третью проверку при наличии расхождений в двух и более заданиях.

*В этом случае третий эксперт перепроверяет все задания с развёрнутым ответом 21–26.*



## СПРАВОЧНЫЕ МАТЕРИАЛЫ ПО МАТЕМАТИКЕ

### АЛГЕБРА

- Формула корней квадратного уравнения:

$$x = \frac{-b \pm \sqrt{D}}{2a}, \text{ где } D = b^2 - 4ac.$$

- Если квадратный трехчлен  $ax^2 + bx + c$  имеет два корня  $x_1$  и  $x_2$ , то

$$ax^2 + bx + c = a(x - x_1)(x - x_2);$$

если квадратный трехчлен  $ax^2 + bx + c$  имеет единственный корень  $x_0$ , то

$$ax^2 + bx + c = a(x - x_0)^2.$$

- Формула  $n$ -го члена арифметической прогрессии ( $a_n$ ), первый член которой равен  $a_1$  и разность равна  $d$ :

$$a_n = a_1 + d(n - 1).$$

- Формула суммы первых  $n$  членов арифметической прогрессии  $S_n = \frac{(a_1 + a_n)n}{2}$ .

- Формула  $n$ -го члена геометрической прогрессии ( $b_n$ ), первый член которой равен  $b_1$ , а знаменатель равен  $q$ :

$$b_n = b_1 \cdot q^{n-1}$$

- Формула суммы первых  $n$  членов геометрической прогрессии  $S_n = \frac{(q^n - 1)b_1}{q - 1}$ .

**Таблица квадратов двузначных чисел**

		Единицы									
		0	1	2	3	4	5	6	7	8	9
Десятки	1	100	121	144	169	196	225	256	289	324	361
	2	400	441	484	529	576	625	676	729	784	841
	3	900	961	1024	1089	1156	1225	1296	1369	1444	1521
	4	1600	1681	1764	1849	1936	2025	2116	2209	2304	2401
	5	2500	2601	2704	2809	2916	3025	3136	3249	3364	3481
	6	3600	3721	3844	3969	4096	4225	4356	4489	4624	4761
	7	4900	5041	5184	5329	5476	5625	5776	5929	6084	6241
	8	6400	6561	6724	6889	7056	7225	7396	7569	7744	7921
	9	8100	8281	8464	8649	8836	9025	9216	9409	9604	9801

### ГЕОМЕТРИЯ

- Сумма углов выпуклого  $n$ -угольника равна  $180^\circ(n - 2)$ .
- Радиус  $r$  окружности, вписанной в правильный треугольник со стороной  $a$ , равен  $\frac{\sqrt{3}}{6}a$ .

- Радиус  $R$  окружности, описанной около правильного треугольника со стороной  $a$ , равен  $\frac{\sqrt{3}}{3}a$ .

- Для треугольника  $ABC$  со сторонами  $AB = c$ ,  $AC = b$ ,  $BC = a$ :

$$\frac{a}{\sin A} = \frac{b}{\sin B} = \frac{c}{\sin C} = 2R,$$

где  $R$  – радиус описанной окружности.

- Для треугольника  $ABC$  со сторонами  $AB = c$ ,  $AC = b$ ,  $BC = a$ :

$$c^2 = a^2 + b^2 - 2ab \cos C.$$

- Формула длины  $l$  окружности радиуса  $R$ :

$$l = 2\pi R.$$

- Формула длины  $l$  дуги окружности радиуса  $R$ , на которую опирается центральный угол в  $\varphi$  градусов:

$$l = \frac{2\pi R \varphi}{360}.$$

- Формула площади  $S$  параллелограмма со стороной  $a$  и высотой  $h$ , проведённой к этой стороне:  $S = ah$ .

- Формула площади  $S$  треугольника со стороной  $a$  и высотой  $h$ , проведённой к этой стороне:

$$S = \frac{1}{2}ah.$$

- Формула площади  $S$  трапеции с основаниями  $a$ ,  $b$  и высотой  $h$ :

$$S = \frac{a+b}{2}h.$$

- Формула площади  $S$  круга радиуса  $R$ :  $S = \pi R^2$ .